



Pôle 1 – Partie 1 : BIOLOGIE



Devoir 1

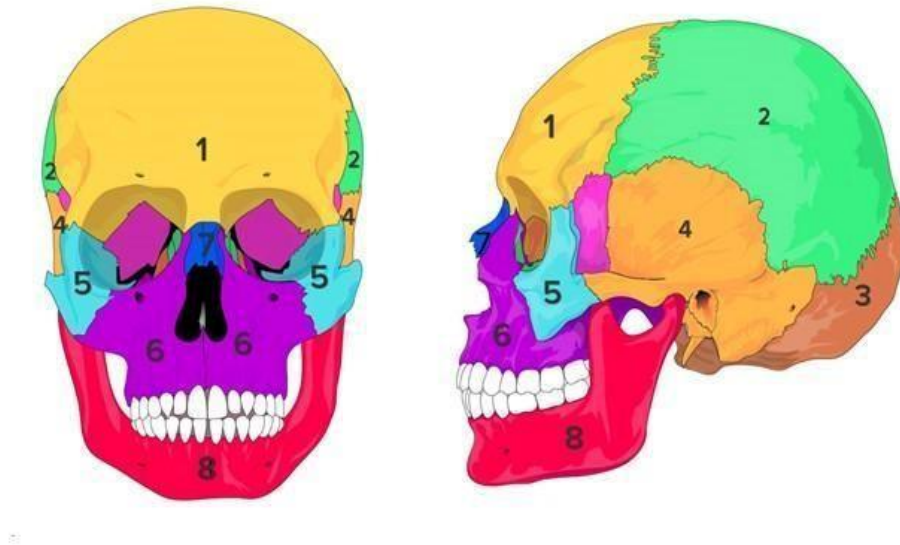
Prénom :

NOM :

Appréciation :

NOTE :

1. Titrer et annoter les schémas suivants : **(8pts)**

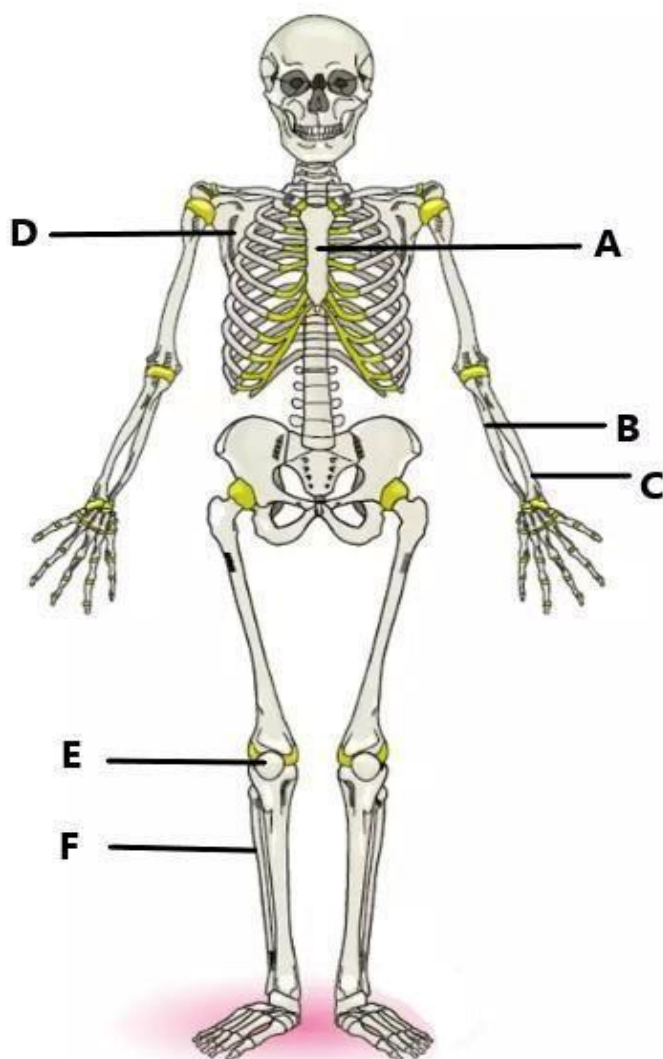


Titre : ...

(0.5 Pt)

1.	2.	3.	4.
5.	6.	7.	8.

(8 x 0.5 Pt)



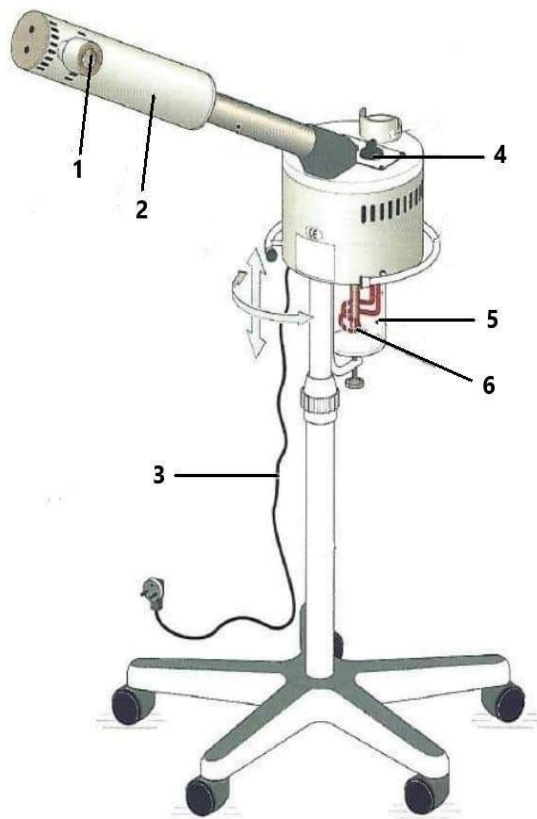
Titre : ...

(0.5 Pt)

A.	B.	C.
D.	E.	F.

(6 x 0.5 Pt)

2. Décrire la particularité des peaux mixtes. **(2 Pts)**
3. Définir les rayons UV **(2 Pts)**
4. Énoncer les risques de contaminations possibles lors d'un soin visage **(2 Pts)**
5. Décrire la fonction du Vapozone. **(2 Pts)**
6. Remplir le tableau suivant **(8 x 0.5 Pt)**



1*	
2	
3	
4*	
5	
6	

*deux réponses attendues